

**問4** 道路に歩道がある場合の走行方法について、以下の【A】～【D】の順にお答えください。  
 ※質問【A】【C】は、回答の合計が100%となるようにお答えください。

【A】 車道の走行割合を記入	【B】 車道の走行理由（当てはまるものすべて）に○印を記入
( ) % ※0%の場合→【C】へ進む	1. 車道走行が原則 2. 歩道より快適 3. 歩道より早い 4. 人との接触を避けるため 5. 放置自転車が邪魔 6. 歩行者優先だから
【C】 歩道の走行割合を記入	【D】 歩道の走行理由（当てはまるものすべて）に○印を記入
( ) % ※0%の場合→問5へ進む	1. 習慣 2. 車道より快適 3. 車道より早い 4. 車との接触を避けるため 5. 路上駐車が邪魔 6. 車の邪魔になる

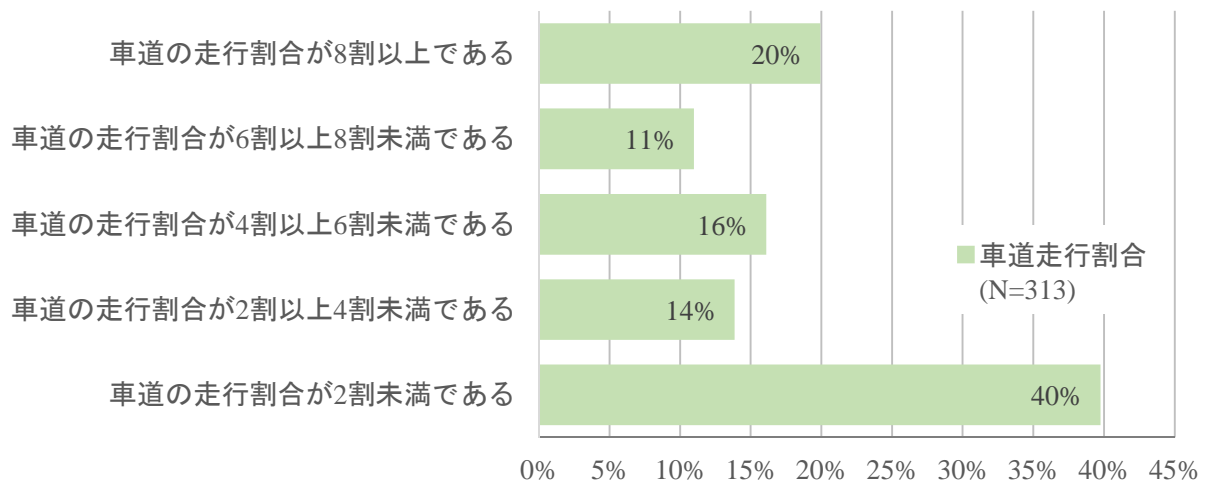


図 118 問4【A】【C】車道の走行割合

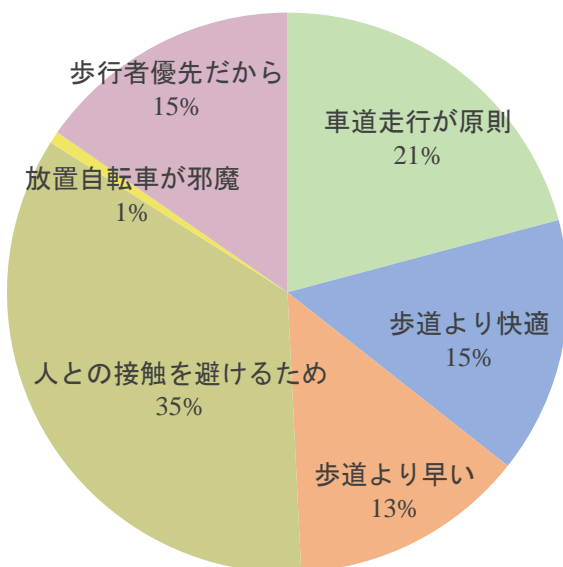


図 119 問4【B】車道の走行割合 N=581

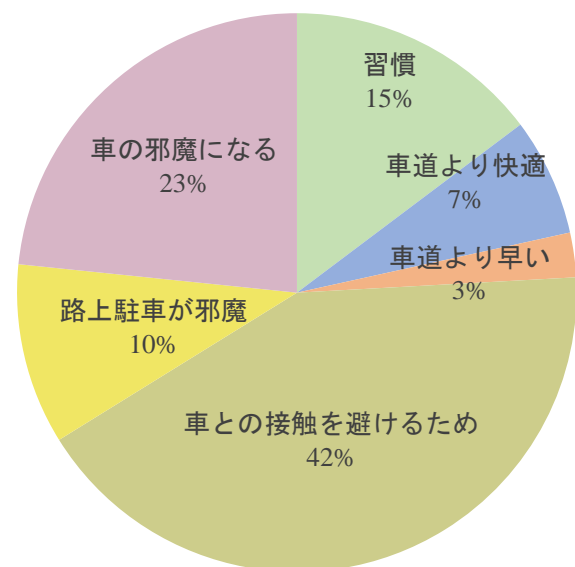


図 120 問4【D】歩道の走行割合 N=659